

اسم المراجع	اسم المصحح	الدرجة المستحقة		رقم السؤال	المملكة العربية السعودية وزارة التعليم الإدارة العامة للتعليم بالمدينة المنورة مدارس الخندق الأهلية ابتدائي * متوسط * ثانوي بنين - بنات
		رقماً	كتابةً		
				الأول	 <b>وزارة التعليم</b> <b>أسئلة اختبار</b> الفصل الدراسي الأول - الدور: الأول للعام الدراسي ١٤٤١
				الثاني	
				الثالث	
				الرابع	
				الخامس	
				السادس	
				المجموع	اسم الطالبة: .....
					رقم الجلوس: .....
					اليوم والتاريخ: الأحد / / ١٤٤١
					الدرجة الكلية
					رقماً ٣٠
					كتابة

ابنتي الطالبة وفقك الله استعيني بالله ثم ابدئي الإجابة

السؤال الأول

ظلي الاختيار الصحيح لكل من الأسئلة التالية في ورقة الإجابة الخارجية المرفقة

(١) الكسر العشري ٧,٠ على صورة كسر اعتيادي

أ	$\frac{7}{10}$	ب	$\frac{7}{9}$	ج	$\frac{7}{99}$	د	$\frac{9}{7}$
---	----------------	---	---------------	---	----------------	---	---------------

(٢) أي الكسور العشرية الآتية تكافئ  $\frac{13}{10}$

أ	٢,٤	ب	٢,٤٥	ج	٢,٥٥	د	٢,٦
---	-----	---	------	---	------	---	-----

(٣) الإشارة المناسبة لتصبح الجملة الآتية صحيحة:  $\frac{8}{9} > ٠,٨$

أ	<	ب	>	ج	=	د	غير ذلك
---	---	---	---	---	---	---	---------

(٤)  $٢\frac{2}{3} \times ٤\frac{1}{2}$  تساوي

أ	١٢	ب	٨	ج	١٥	د	٦
---	----	---	---	---	----	---	---

(٥)  $\frac{2}{3} \times \frac{4}{5}$  تساوي

أ	$\frac{2}{3}$	ب	$\frac{22}{15}$	ج	$\frac{8}{15}$	د	$\frac{3}{4}$
---	---------------	---	-----------------	---	----------------	---	---------------

(٦)  $\frac{2}{5} \div \frac{2}{3}$  تساوي

أ	$\frac{4}{15}$	ب	$\frac{5}{3}$	ج	$\frac{7}{6}$	د	$\frac{1}{12}$
---	----------------	---	---------------	---	---------------	---	----------------

$$(7) \quad \frac{5}{7} - \left(\frac{4}{7}\right) \text{ تساوي}$$

أ	$\frac{1}{7}$	ب	$\frac{9}{7}$	ج	$\frac{4}{7}$	د	$\frac{9}{7}$
---	---------------	---	---------------	---	---------------	---	---------------

$$(8) \quad \left(\frac{1}{2}\right) + \frac{5}{6} \text{ تساوي}$$

أ	$\frac{3}{4}$	ب	$\frac{3}{4}$	ج	$\frac{2}{3}$	د	$\frac{4}{3}$
---	---------------	---	---------------	---	---------------	---	---------------

$$(9) \quad 8\frac{1}{4} + 3\frac{1}{4} - \text{ تساوي}$$

أ	$4\frac{5}{6}$	ب	$\frac{17}{5}$	ج	$4\frac{5}{3}$	د	$7\frac{13}{2}$
---	----------------	---	----------------	---	----------------	---	-----------------

$$(10) \quad م \times م \times م \times م \times م \times م \text{ تساوي}$$

أ	$م^6 + م^2$	ب	$م^2 \times م^2$	ج	$م^3 + م^2$	د	$م^3 \times م^2$
---	-------------	---	------------------	---	-------------	---	------------------

(11) ٨

أ	٨	ب	٠	ج	١	د	٨٠
---	---	---	---	---	---	---	----

$$(12) \quad \sqrt{49} \text{ قيمة}$$

أ	٧-	ب	٥	ج	٧	د	٦
---	----	---	---	---	---	---	---

$$(13) \quad \text{حل المعادلة } م^2 = 36$$

أ	$6 \pm$	ب	٣٦	ج	٣٦ -	د	غير ذلك
---	---------	---	----	---	------	---	---------

$$(14) \quad \text{أفضل تقدير لـ } \sqrt{35} \text{ إلى اقرب عدد كلي هو}$$

أ	٦	ب	٥	ج	٤	د	٧
---	---	---	---	---	---	---	---

$$(15) \quad \text{إلى أي من مجموعات الأعداد الحقيقية ينتمي العدد } \sqrt{10}$$

أ	صحيح	ب	نسبي	ج	غير نسبي	د	كلي
---	------	---	------	---	----------	---	-----

$$(16) \quad \text{أي من الأعداد التالية عدد غير نسبي}$$

أ	$\frac{2}{3}$	ب	٦ -	ج	$9\sqrt{}$	د	$3\sqrt{}$
---	---------------	---	-----	---	------------	---	------------

$$(17) \quad \text{حل التناسب } \frac{م}{6} = \frac{2}{4}$$

أ	٦	ب	٣	ج	٤	د	٢
---	---	---	---	---	---	---	---

١٨) يبين الجدول طول ثامر عندما كان عمره ٨ سنوات و ١١ سنة  
معدل التغير خلال هذين العامين هو ...

١٤٥	١٣٠	الطول (سم)
١١	٨	العمر (سنة)

أ	١٥	ب	٣	ج	٥	د	٤
---	----	---	---	---	---	---	---

١٩) تتضمن تعليمات الرحلات في إحدى المدارس أن يرافق ٥ معلمين كل ٥٠ طالباً.  
إذا ذهب في الرحلة ١٢٠ طالباً ، فكم معلماً رافق الطلاب ؟

أ	١٠	ب	٩	ج	٣	د	١٢
---	----	---	---	---	---	---	----

٢٠) إذا تشابه شكلان وكان عامل المقياس بينهما يساوي  $\frac{أ}{ب}$  فإن النسبة بين محيطيهما تساوي

أ	$\frac{أ}{ب}$	ب	$\frac{ب}{أ}$	ج	أ + ب	د	أ × ب
---	---------------	---	---------------	---	-------	---	-------

(٢١)

كمية الدهان اللازمة لطلاء الغرفة	
عدد الغرف	كمية الدهان
٥	٦
١٠	١٢
١٥	١٨
٢٠	٢٤

العلاقة المبينة في الجدول هي علاقة .....

أ	غير متناسبة	ب	خطية و متناسبة	ج	متناسبة و غير خطية	د	غير ذلك
---	-------------	---	----------------	---	--------------------	---	---------

٢٢) إذا كان طول ظل إشارة مرور ٣ م ، وطول ظل برج الهاتف النقال في الوقت نفسه ١٥ م  
فما طول برج الهاتف النقال إذا كان طول إشارة المرور مترين ؟

أ	١٠	ب	١٥	ج	١٨	د	١١
---	----	---	----	---	----	---	----

(٢٣) ٢٥٪ من ٤٤

أ	١٠	ب	٧	ج	١١	د	٨
---	----	---	---	---	----	---	---

(٢٤) ١٠٪ من ٦٥

أ	٦,٥	ب	٠,٦٥	ج	٦٥	د	٦٥٠
---	-----	---	------	---	----	---	-----

٢٥) قدر ٢٤٪ من ٤٤

أ	٢٠ تقريباً	ب	١٥ تقريباً	ج	٩ تقريباً	د	١٠ تقريباً
---	------------	---	------------	---	-----------	---	------------

٢٦) قدر النسبة المئوية لـ ١٤ من ٢٥

أ	٥٠٪	ب	٦٠٪	ج	٧٠٪	د	٨٠٪
---	-----	---	-----	---	-----	---	-----

٢٧) العدد الذي ٣٠٪ منه يساوي ٧٥

أ	٢٥٠	ب	٢٢,٥	ج	٢,٥	د	١٦٠
---	-----	---	------	---	-----	---	-----

٢٨) يبيع محل القطعة بربح ٤٥٪. إذا كان السعر الأصلي للقطعة ٤٠ ريالاً فإن سعر بيعها يكون

أ	٥٨	ب	٧٠	ج	٨٠	د	٤٥
---	----	---	----	---	----	---	----

٢٩) اشترت غاده تلفازاً ثمنه قبل التخفيض ١٢٥٠ ريالاً. إذا كانت نسبة التخفيض ٣٠٪، فما قيمته؟

أ	٨٧٥ ريالاً	ب	٦٧٥ ريالاً	ج	٤٢٥ ريالاً	د	٣٧٥ ريالاً
---	------------	---	------------	---	------------	---	------------

٣٠) إذا كان الزمن الأصلي : ٦ ساعات

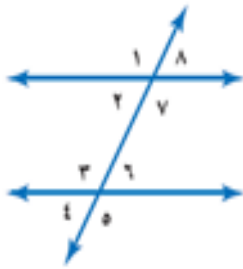
الزمن الجديد: ١٠ ساعات، فإن التغير المئوي يكون .....

أ	٠,٦٪	ب	٦٦,٦٧٪	ج	٦,٦٪	د	٦٦٦,٦٧٪
---	------	---	--------	---	------	---	---------

٣١) هما الزاويتان اللتان مجموع قياسهما تساوي ٩٠°

أ	المتكاملتان	ب	المتناظرتان	ج	المتبادلتان	د	المتتامتان
---	-------------	---	-------------	---	-------------	---	------------

٣٢) علاقة الزاوية ٨ و الزاوية ٤



أ	متناظرتان	ب	متقابلتان بالرأس	ج	متبادلتان خارجياً	د	متبادلتان داخلياً
---	-----------	---	------------------	---	-------------------	---	-------------------

٣٣) قيمة س° في الشكل المجاور تساوي .....



أ	٣٦°	ب	٤٤°	ج	١٨٠°	د	٣٦٠°
---	-----	---	-----	---	------	---	------

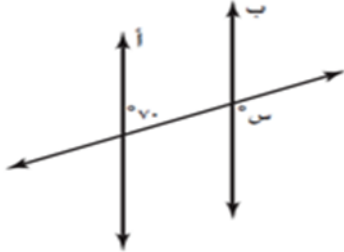
٣٤) مجموع قياسات الزوايا الداخلية للشكل السداسي تساوي ...

أ	١٠٨٠°	ب	١٥٠°	ج	١٤٠٠°	د	٧٢٠°
---	-------	---	------	---	-------	---	------

٣٥) هو إنتقال الشكل من موقع إلى آخر دون تدويره

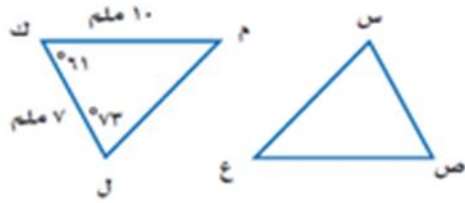
أ	التماثل	ب	الإنسحاب	ج	الإنعكاس	د	التمدد
---	---------	---	----------	---	----------	---	--------

٣٦) في الشكل المقابل إذا كان المستقيمان أ و ب متوازيين ، فما قيمة س ؟



أ	٧٠°	ب	١٠٠°	ج	١١٠°	د	٨٠°
---	-----	---	------	---	------	---	-----

٣٧) إذا كان  $\Delta$  س ص ع  $\cong$   $\Delta$  ل ك م فإن قياس الزاوية س يساوي....

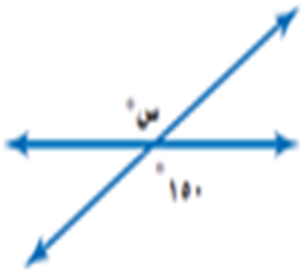


أ	٦١°	ب	٧٣°	ج	٤٦°	د	٥٠°
---	-----	---	-----	---	-----	---	-----

٣٨) الزاويتان المتكاملتان هما الزاويتان اللتان حاصل جمعهما يساوي ...

أ	٩٠°	ب	٤٤°	ج	١٨٠°	د	٣٦٠°
---	-----	---	-----	---	------	---	------

٣٩) قيمة س في الشكل



أ	١٥٠°	ب	٧٠°	ج	١٢٠°	د	١١٠°
---	------	---	-----	---	------	---	------

٤٠) إذا أُجري إنسحاب للنقطة ع (٥،٦) بمقدار وحدتين إلى اليسار و ٣ وحدات إلى الأسفل فما إحداثيات النقطة ع

أ	(٢، ٢)	ب	(٢، ٤)	ج	(١ - ، ٤)	د	(١ - ، ٢)
---	--------	---	--------	---	-----------	---	-----------

٤
---

السؤال الثاني

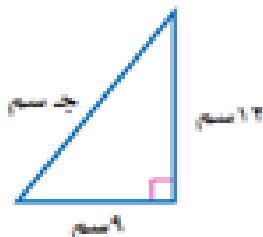
ضعي علامة ✓ أمام العبارة الصحيحة وعلامة ✗ أمام العبارة الخاطئة بتظليل رقم ١ أو ٢ في ورقة الإجابة الخارجية المرفقة

		العبارة	
✓	✗		
		٤١ ناتج ضرب العدد في نظيرة الضربي يساوي ١	
		٤٢ الصيغة العلمية للعدد ٠,٠٠٠٠٠٠٠٣٥ تساوي ٣,٥ × ١٠	
		٤٣ العدد - ٥ هو عدد غير نسبي	
		٤٤ التناسب هي معادلة تبين ان نسبتيين او معدليين متكافئان	
		٤٥ الإحداثي الصادي في الزوج المرتب (-٢،٣) هو - ٣	
		٤٦ إذا كانت الكمية الجديدة أكبر من الكمية الأصلية فإن التغير المئوي يسمى النقصان المئوي	
		٤٧ المضلع المتطابق الأضلاع والمتطابق الزوايا يسمى مضلعاً غير منتظماً	
		٤٨ عندما يبيع متجر شيء ما بمبلغ أكبر مما دفعة عند شرائه فإن المبلغ الإضافي يسمى ربحاً	

٣
---

السؤال الثالث :

أ) أكتب معادلة لإيجاد طول الضلع المجهول في المثلث القائم الزاوية ، ثم أوجد الطول المجهول



ب) إذا كان  $\Delta$  أ ب ج الذي رؤوسه

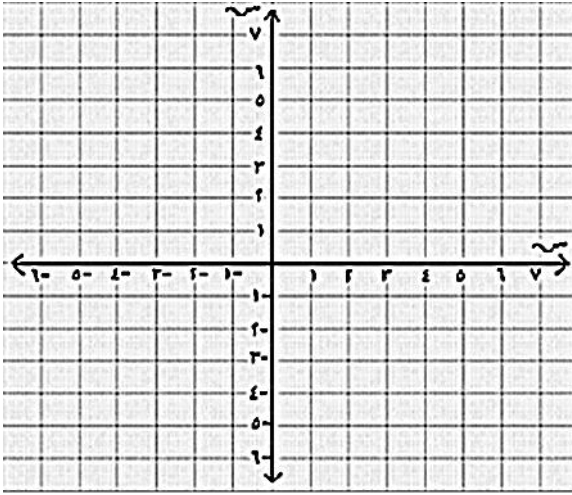
أ ( ١ ، ١ ) ، ب ( - ١ ، ١ ) ، ج ( ٢ ، ٢ )  
وكان عامل التمدد = ٢

فإن أ (.....،.....)

ب (.....،.....)

ج (.....،.....)

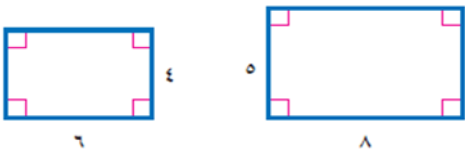
ج) مثلي  $\Delta$  أ ب ج و  $\Delta$  أ ب ج بيانياً وحددي نوع التمدد؟



٣

السؤال الرابع

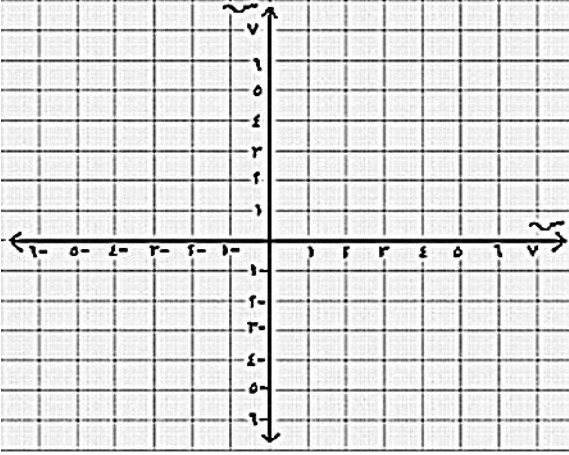
أ) حدد ما إذا كان المضلعين متشابهين ام لا ووضحي اجابتك



ب) هل للشكل محور تماثل ؟ ، وحددي محور التماثل إن وجد



ج) أرسم المثلث ق ل ك الذي احداثيات رؤوسه ق (١، ١) ، ل (٥، ٣) ، ك (٢، ٤) ثم ارسم صورته بالانعكاس حول محور السينات



انتهت الأسئلة ،،، تمنياتي بالتوفيق

معلمة المادة/مشاعل الحربي