

أختار الإجابة الصحيحة .

١- نبتة صغيرة في بداية نمو البذرة

أ	البادرة	ب	الزهرة	ج	الورقة
---	---------	---	--------	---	--------

٢- جزء من النبات له ألوان مختلفة يكون البذور و الثمار

أ	الورقة	ب	البذرة	ج	الزهرة
---	--------	---	--------	---	--------

٣- جزء من النبات ينبت ويصير نبات جديد

أ	الساق	ب	الجزر	ج	البذرة
---	-------	---	-------	---	--------

٤- مسحوق يتكون داخل الزهرة يسهم في إنتاج البذور

أ	حبوب اللقاح	ب	الجزور	ج	الثمار
---	-------------	---	--------	---	--------

٥- مخلوقات حية تستطيع صنع الغذاء بنفسها

أ	الحيوانات	ب	النباتات	ج	الطيور
---	-----------	---	----------	---	--------

٦- أجزاء صلبة غير حية من التربة

أ	المعادن	ب	الأكسجين	ج	حبوب اللقاح
---	---------	---	----------	---	-------------

٧- جزء من النبات يأخذ الهواء و يستخدم ضوء الشمس ليصنع الغذاء

أ	الساق	ب	الأوراق	ج	الجزور
---	-------	---	---------	---	--------

٨- جزء النبات الذي يدعم ويسمح للماء و الغذاء بالانتقال خلاله

أ	الساق	ب	الأوراق	ج	الجزور
---	-------	---	---------	---	--------

٩- جزء النبات الذي يثبتته في التربة

أ	الساق	ب	الأوراق	ج	الجزور
---	-------	---	---------	---	--------

١٠- جزء النبات الذي يمتص الماء و الأملاح من التربة

أ	الساق	ب	الأوراق	ج	الجزور
---	-------	---	---------	---	--------

١١- غاز تطلقه النباتات عندما تصنع الغذاء

أ	النيتروجين	ب	الأكسجين	ج	ثاني أكسيد الكربون
---	------------	---	----------	---	--------------------

١٢- غاز ينتفسه الإنسان و الحيوان ليعيشا

أ	النيتروجين	ب	الأكسجين	ج	ثاني أكسيد الكربون
---	------------	---	----------	---	--------------------

١٣- جزء النبات الذي يكون البذور والثمار في النبات

أ	الورقة	ب	الساق	ج	الزهرة
---	--------	---	-------	---	--------

١٤- جزء النبات الذي يحمي البذور داخلها

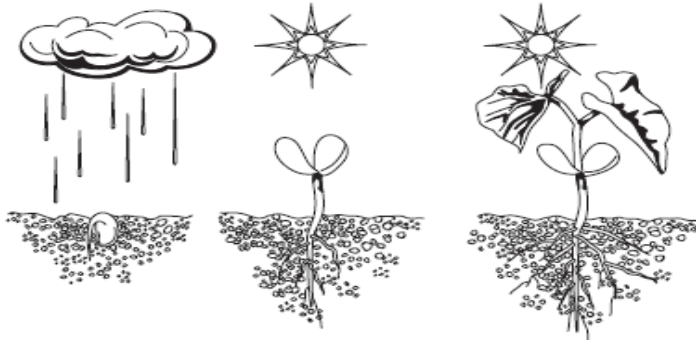
أ	الثمرة	ب	الجنور	ج	الزهرة
---	--------	---	--------	---	--------

١٥- تبين كيف ينمو المخلوق الحي ويعيش و ينتج المزيد من نوعه ثم يموت

أ	البيئة	ب	دورة الحياة	ج	الجنين
---	--------	---	-------------	---	--------

١٦- كيف تختلف النباتات عن باقي المخلوقات الحية

أ	تستخدم أشعة الشمس لتنتج غذاءها	ب	تحتاج إلى الهواء لتنمو	ج	تحتاج إلى الماء لتعيش
---	--------------------------------	---	------------------------	---	-----------------------



١٧- ما الذي توضحه هذه الصورة

أ	كيف ينتج النبات الغذاء	ب	كيف ينتج النبات نباتات جديدة	ج	كيف ينمو النبات وكيف يتغير
---	------------------------	---	------------------------------	---	----------------------------

١٨- حيوان يغطي جسمه الشعر أو الفرو ويرضع صغاره الحليب

أ	الطائر	ب	الثدي	ج	الزاحف
---	--------	---	-------	---	--------

١٩- حيوان يغطي جسمه الريش وله جناحان ومنقار

أ	الزاحف	ب	البرمائي	ج	الطائر
---	--------	---	----------	---	--------

٢٠- المراحل التي يمر بها المخلوق الحي في حياته

أ	دورة الحياة	ب	البيئة	ج	حبوب اللقاح
---	-------------	---	--------	---	-------------

٢١- مرحلة في دورة حياة بعض الحيوانات تمر بها بعدما تفقس البيض

أ	العدراء	ب	اليرقة	ج	الحشرة
---	---------	---	--------	---	--------

٢٢- مجموعة الحيوانات التي لها عمود فقري

أ	اللافقاريات	ب	الحشرات	ج	الفقاريات
---	-------------	---	---------	---	-----------

٢٣- الأسود والجمال من

أ	الزواحف	ب	الثدييات	ج	الأسماك
---	---------	---	----------	---	---------

٢٤- حيوانات يغطي جسمها الشعر أو الفرو وتتنفس عن طريق الرئتين

أ	الثدييات	ب	البرمائيات	ج	الطيور
---	----------	---	------------	---	--------

٢٥- مجموعة الحيوانات التي إنثائها تلد وترضع صغارها الحليب

أ	الأسماك	ب	الزواحف	ج	الثدييات
---	---------	---	---------	---	----------

٢٦- البجع من

أ	الطيور	ب	البرمائيات	ج	الحشرات
---	--------	---	------------	---	---------

٢٧- الحيوانات الوحيدة التي يغطي جسمها الريش

أ	الثدييات	ب	الطيور	ج	الأسماك
---	----------	---	--------	---	---------

٢٨- حيوانات لها جناحان ومنقار وتضع بيضا

أ	البرمائيات	ب	الزواحف	ج	الطيور
---	------------	---	---------	---	--------

٢٩- الشعري والكند والهامور من

أ	الأسماك	ب	اللافقاريات	ج	الزواحف
---	---------	---	-------------	---	---------

٣٠- فقاريات تغطي جسمها قشور

أ	الحشرات	ب	الطيور	ج	الأسماك
---	---------	---	--------	---	---------

٣١- فقاريات تستخدم خياشيمها للتنفس وزعانفها للسباحة

أ	الأسماك	ب	البرمائيات	ج	الثدييات
---	---------	---	------------	---	----------

٣٢- الضب و السلحفاة من

أ	البرمائيات	ب	الزواحف	ج	الطيور
---	------------	---	---------	---	--------

٣٣- جلد السلحفاة خشن ومغطى بـ

أ	القشور	ب	الريش	ج	الحرشف
---	--------	---	-------	---	--------

٣٤- الضفدع والسلمندر من

أ	البرمائيات	ب	الأسماك	ج	الثدييات
---	------------	---	---------	---	----------

٣٥- فقاريات تبدأ حياتها في الماء ثم تنتقل إلى اليابسة عندما تكبر

أ	البرمائيات	ب	الطيور	ج	الحشرات
---	------------	---	--------	---	---------

٣٦- فقاريات جلدها رطب يساعدها على العيش على اليابسة و في الماء

أ	الطيور	ب	الأسماك	ج	البرمائيات
---	--------	---	---------	---	------------

٣٧- قناديل البحر من

أ	الفقاريات	ب	اللافقاريات	ج	الحشرات
---	-----------	---	-------------	---	---------

٣٨- حيوان له ست أرجل و قرنا استشعار وغطاء خارجي صلب

أ	السلمندر	ب	قنديل البحر	ج	الخنفساء
---	----------	---	-------------	---	----------

٣٩- اليعسوب من

أ	الزواحف	ب	الحشرات	ج	الطيور
---	---------	---	---------	---	--------

٤٠- جراد البحر من

أ	الحشرات	ب	الفقاريات	ج	اللافقاريات
---	---------	---	-----------	---	-------------

٤١- تبين كيف يبدأ الحيوان حياته وكيف ينمو ليصير كبير وينتج صغار ثم يموت

أ	البيئة	ب	دورة الحياة	ج	العذراء
---	--------	---	-------------	---	---------

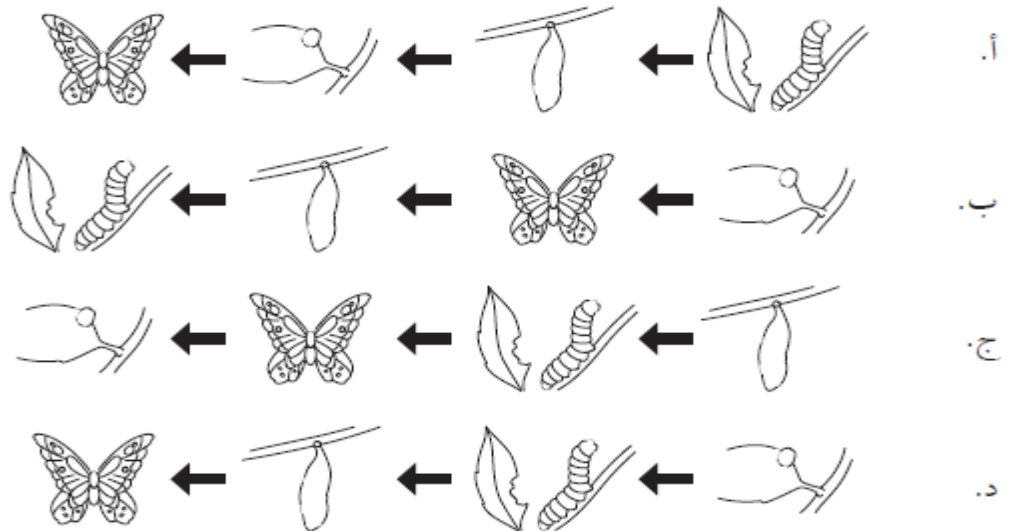
٤٢- الحيوانات التي يغطي أجسامها الحراشف تسمى

أ	الزواحف	ب	الحشرات	ج	الطيور
---	---------	---	---------	---	--------

٤٣- أي العبارات تضم مجموعة واحدة من الحيوانات

أ	الدب و القط و السمكة	ب	التمساح و السمكة و السلحفاة	ج	الخنفساء و النملة و الجندب
---	----------------------	---	-----------------------------	---	----------------------------

٤٤- أي مما يأتي يمثل التتابع الصحيح لدورة حياة الفراشة



٤٥- الحيوان الذي يرضع صغاره الحليب يسمى

أ	ثدييا	ب	حشرة	ج	زاحف
---	-------	---	------	---	------

٤٦- صغير الفراشة يسمى

أ	عذراء	ب	يرقة	ج	بيضة
---	-------	---	------	---	------

٤٧- الحيوانات التي تبدأ حياتها في الماء ، وتقضي بقية حياتها على اليابسة

أ	برمائيات	ب	ثدييات	ج	زواحف
---	----------	---	--------	---	-------

٤٨- مكان تعيش فيه المخلوقات الحية

أ	السلسلة الغذائية	ب	الموطن	ج	الفريسة
---	------------------	---	--------	---	---------

٤٩- ترتيب يوضح التتابع الذي تحصل به المخلوقات الحية على غذائها

أ	السلسلة الغذائية	ب	الموطن	ج	الفريسة
---	------------------	---	--------	---	---------

٥٠- حيوان يصطاده حيوان مفترس

أ	الفريسة	ب	المفترس	ج	الموطن
---	---------	---	---------	---	--------

٥١- حيوان يصطاد حيوانات أخرى ليتغذى عليها

أ	السلسلة الغذائية	ب	المفترس	ج	الفريسة
---	------------------	---	---------	---	---------

٥٢- الضب حيوان يعيش في موطن

أ	حار جاف	ب	بارد وفيه ثلوج	ج	عشبي ودافئ
---	---------	---	----------------	---	------------

٥٣- تبدأ معظم سلاسل الغذاء بـ

أ	النبات	ب	الشمس	ج	الحيوان
---	--------	---	-------	---	---------

٥٤- مخلوقات حية تفكك المخلوقات الميتة إلى قطع صغيرة جدا

أ	الشمس	ب	النبات	ج	الديدان
---	-------	---	--------	---	---------

٥٥- داخل سلسلة غذائية على اليابسة السحلية تأكل

أ	الأفعى	ب	الحشرة	ج	الصقر
---	--------	---	--------	---	-------

٥٦- داخل سلسلة غذائية في الصحراء الصقر يأكل

أ	الأرنب	ب	النبات	ج	الشمس
---	--------	---	--------	---	-------




٥٧- الصورة التالية توضح جزء من

أ	السلسلة الغذائية	ب	الموطن	ج	الفريسة
---	------------------	---	--------	---	---------



٥٨- الطائر في هذه الصورة

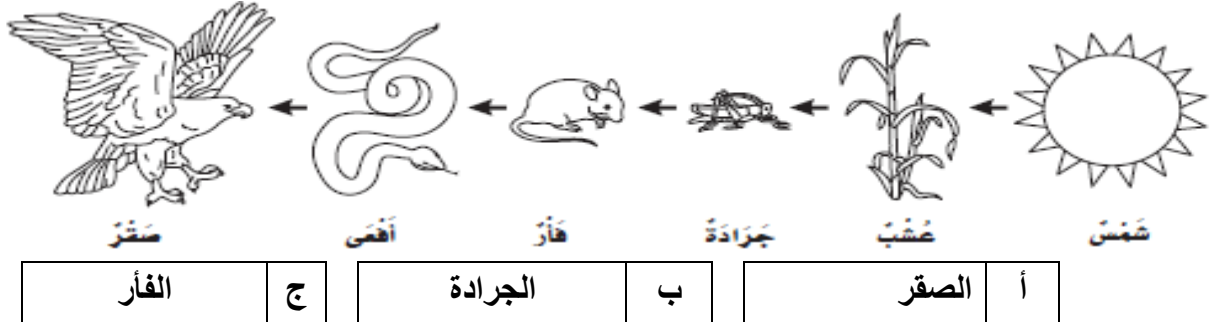
أ	محلل	ب	مفترس	ج	فريسة
---	------	---	-------	---	-------



٥٩- أي العبارات التالية تصف الموطن الذي توضحه الصورة ؟

أ	عشبي بارد	ب	حار رطب	ج	عشبي رطب
---	-----------	---	---------	---	----------

٦٠- أنظر إلى السلسلة الغذائية التالية ماذا تأكل الأفعى



٦١- موطن حار جاف أمطاره قليلة جدا

أ	الغابة	ب	الصحراء الحارة	ج	المنطقة القطبية
---	--------	---	----------------	---	-----------------

٦٢- منطقة باردة جدا تقع بالقرب من القطب الشمالي

أ	الغابة	ب	الصحراء الحارة	ج	المنطقة القطبية
---	--------	---	----------------	---	-----------------

٦٣- موطن تنمو فيه الأشجار جيدا بسبب نزول الأمطار وتوافر ضوء الشمس

أ	الغابة	ب	الصحراء الحارة	ج	المنطقة القطبية
---	--------	---	----------------	---	-----------------

٦٤- موطن تسقط فيه الأمطار كل يوم تقريبا

أ	المنطقة القطبية	ب	الغابة	ج	الغابة المطيرة
---	-----------------	---	--------	---	----------------

٦٥- موطن تربته رملية وصخرية ينمو فيه نبات الصبار

أ	الغابة	ب	الصحراء الحارة	ج	المنطقة القطبية
---	--------	---	----------------	---	-----------------

٦٦- تستطيع السلاحف و الثعابين و السحالي أن تعيش في

أ	الغابة	ب	الصحراء الحارة	ج	الغابة المطيرة
---	--------	---	----------------	---	----------------

٦٧- القط البري و الذئب و الضب من حيوانات

أ	الصحراء الباردة	ب	المنطقة القطبية	ج	الصحراء الحارة
---	-----------------	---	-----------------	---	----------------

٦٨- الثعالب القطبية و غزال الرنة و الفقمة و الدب القطبي تعيش في

أ	الغابة المطيرة	ب	المنطقة القطبية	ج	الصحراء الحارة
---	----------------	---	-----------------	---	----------------

٦٩- تنمو النباتات قريبة من سطح الأرض في

أ	الغابة	ب	المنطقة القطبية	ج	الصحراء الحارة
---	--------	---	-----------------	---	----------------

٧٠- الطيور و الحشرات و الديدان تعيش في

أ	الغابة	ب	المنطقة القطبية	ج	الصحراء الحارة
---	--------	---	-----------------	---	----------------

٧١- معظم الأشجار لها أوراق يتغير لونها وتتساقط في فصل

أ	الشتاء	ب	الصيف	ج	الخريف
---	--------	---	-------	---	--------

٧٢- حيوان يعيش في الغابة وله عينان كبيران يصطاد بهما في الليل

أ	الغزال	ب	البومة	ج	السنجاب
---	--------	---	--------	---	---------

٧٣- حيوان له منقار طويل وحاد يستخدمه ليأكل الحشرات

أ	نقار الخشب	ب	البيغاء	ج	النمر
---	------------	---	---------	---	-------

٧٤- حيوان له خدود كبيرة تساعده على حمل الجوز

أ	البومة	ب	السنجاب	ج	أكل النمل
---	--------	---	---------	---	-----------

٧٥- أنظر إلى الصورة: ما أفضل خاصية ساعدت الدب القطبي على العيش في المنطقة القطبية ؟



أ	الفرو السميك	ب	العيون الحادة	ج	اللون الأبيض
---	--------------	---	---------------	---	--------------

٧٦- كيف تحصل حيوانات الصحراء على الماء

أ	تتغذى على كل من الحيوانات والنباتات	ب	تشرب الماء من الأنهار	ج	تمتص الماء من الهواء
---	-------------------------------------	---	-----------------------	---	----------------------

٧٧- الأشكال المختلفة لسطح الأرض

أ	أشكال الماء العذب	ب	أشكال اليابسة	ج	أشكال الماء المالح
---	-------------------	---	---------------	---	--------------------

٧٨- ماء غير صالح نستخدمه في الشرب و الطبخ

أ	البحر	ب	المحيط	ج	الماء العذب
---	-------	---	--------	---	-------------

٧٩- تجمع كبير و عميق من الماء المالح

أ	الماء العذب	ب	المحيط	ج	الأنهار
---	-------------	---	--------	---	---------

٨٠ - منطقة مرتفعة من اليابسة لها قمة حادة وجوانب شديدة الانحدار

أ	الجبل	ب	السهل	ج	الوادي
---	-------	---	-------	---	--------

٨١- أرض منخفضة بين الجبال و التلال

أ	السهل	ب	الوادي	ج	القارة
---	-------	---	--------	---	--------

٨٢- منطقة منبسطة وواسعة

أ	التل	ب	الجبل	ج	السهل
---	------	---	-------	---	-------

٨٣- مناطق مرتفعة ولكنها أقل ارتفاعاً من الجبال

أ	السهول	ب	التلال	ج	القارات
---	--------	---	--------	---	---------

٨٤- تسمى الأجزاء الكبيرة من اليابسة والمحاطة بالمحيطات

أ	القارات	ب	الجزر	ج	البحار
---	---------	---	-------	---	--------

٨٥- يشير اللون البني في الخريطة إلى

أ	الصحراء	ب	الجبال	ج	المياه
---	---------	---	--------	---	--------

٨٦- يشير اللون الأزرق في الخريطة إلى

أ	المياه	ب	السهول	ج	الجبال
---	--------	---	--------	---	--------

٨٧- الأجزاء الصغيرة من اليابسة المحاطة بالماء من جميع الجهات تسمى

أ	القارات	ب	الجزر	ج	البحار
---	---------	---	-------	---	--------

٨٨- اللون الأخضر في الخريطة يشير إلى

أ	الجبال	ب	المحيطات	ج	السهول
---	--------	---	----------	---	--------

مع تحياتي بالتوفيق أ / عبدالرحيم إبراهيم علي
معلم العلوم

علوم الصف الثاني الابتدائي
أنا أحب العلم والعلماء
تدريبات التحصيلي ترم ١