

المادة: علوم
الصف:
الأول الابتدائي



ورقة عمل

اسم الطالب:



الموضوع: الطقس من حولنا



من أكون؟

أنا حالة السماء والهواء خلال اليوم.
السماء قد تكون مشمسة أو غائمة والهواء
قد يكون جافاً أو ممطراً أو مثلجاً.
(.....)



اختر الإجابة الصحيحة:

الطقس الممثل في الصورة
التالية هو طقس:

(مشمس - ممطر - غائم - مثلج).



المادة: علوم
الصف:
الأول الابتدائي



ورقة عمل

اسم الطالب:

الموضوع: تابع الطقس من حولنا



ضع علامة (✓) أسفل الإجابة الصحيحة:

..... هي الهواء المتحرك.

الرياح

الطقس

الرطوبة

يستخدم جهاز لقياس درجة الحرارة.

دوارة الرياح

مقياس المطر

الترمومتر

أمامك صور لأدوات
قياس الطقس صل كل
صورة بما يناسبها.



دوارة الرياح

مقياس الحرارة

مقياس المطر

المادة: علوم
الصف:
الأول الابتدائي



ورقة عمل

اسم الطالب:



الموضوع: الفصول الأربعة



صل الإجابة الصحيحة:

الربيع

الصيف

الشتاء


فصل يكون أشد الفصول حرارة
ويكون الطقس فيه جافاً ومشمساً
لساعات أطول تثمر فيه كثير من
النباتات ويتوافر للإنسان غذاء كثير
هو فصل

ضع علامة (✓) أمام العبارة الصحيحة وعلامة (x) أمام العبارة الخاطئة:

1 أعلى الفصول في درجة الحرارة هو فصل الصيف. ()

2 يقل عدد الساعات المشمسة في فصل الشتاء. ()

3 في فصل الربيع تفقد بعض الأشجار أوراقها. ()

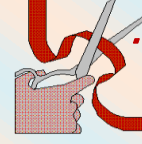


المادة: علوم
الصف:
الأول الابتدائي



ورقة عمل

اسم الطالب:



الموضوع: تابع الفصول
الأربعة



صل من العمود الأول بما يناسب من العمود الثاني:



الفصل الذي يلي الخريف.

الربيع:

الفصل الذي يلي الصيف.


الشتاء:

الفصل الذي يلي الشتاء.

الخريف:

اكتب المصطلح الدال على ما يلي:

من فصول السنة ويتميز بأنه يكون
مشمساً ساعات أقل من الصيف
ويصبح الطقس أقل حرارة، وبعض
النباتات تتغير ألوان أوراقها وتتساقط.



المادة: علوم
الصف:
الأول الابتدائي



ورقة عمل

اسم الطالب:



الموضوع: خصائص المواد



ضع خطأ تحت الإجابة الصحيحة:

توجد المادة في

4 حالات

3 حالات

5 حالات

ضع علامة (✓) أمام الخصائص التي
نستخدمها لوصف المادة:



<input type="checkbox"/>	الحجم
<input type="checkbox"/>	المساحة
<input type="checkbox"/>	الشكل

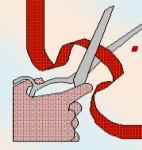
<input type="checkbox"/>	اللون
<input type="checkbox"/>	الرائحة
<input type="checkbox"/>	الضوء

المادة: علوم
الصف:
الأول الابتدائي



ورقة عمل

اسم الطالب:



الموضوع: تابع خصائص
المواد



صل كل صورة بما يناسبها مما يأتي:

استخدمه لقياس الكتلة.




العبوة التي كتلتها خفيفة.



العبوة التي كتلتها أكبر.



تأمل الشكل المقابل واختر الإجابة الصحيحة:



أيهما أكبر كتلة؟

← الأرنب المعدني

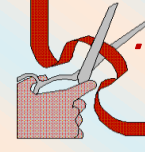
← الأرنب الإسفنجي

المادة: علوم
الصف: الأول الابتدائي



ورقة عمل

اسم الطالب:



الموضوع: المواد الصلبة



ضع دائرة حول الإجابة الصحيحة:

أي من الصور التالية
يمثل مادة صلبة:



ضع علامة (✓) أسفل الإجابة الصحيحة:

المقص من المواد التي لها شكل محدد.

الغازية



الصلبة



السائلة



تستخدم لقياس أبعاد المادة الصلبة.

المسطرة



الميزان



المقص



المادة: علوم
الصف:
الأول الابتدائي



ورقة عمل

اسم الطالب:

الموضوع: السوائل
والغازات



مصل العمود الأول بما يناسب من العمود الثاني:

من السوائل التي تنساب ببطء.

الحليب والزيت:

من السوائل التي تنساب بسرعة.

السائل:

مادة تأخذ شكل الوعاء الذي توضع فيه.

العسل ومعجون الطماطم:



ما خصائص السوائل في
الصور التالية؟



.....

.....

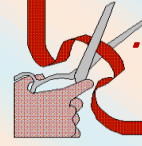
.....

المادة: علوم
الصف:
الأول الابتدائي



ورقة عمل

اسم الطالب:



الموضوع: تابع السوائل
والغازات



ضع علامة (✓) أمام العبارة الصحيحة وعلامة (x) أمام العبارة الخاطئة:



- ← المقص من المواد الغازية. ()
- ← أستخدم كأساً مدرج لقياس حجم الغاز. ()
- ← الغاز ينتشر بسهولة ليملاً المكان الذي يوجد فيه. ()



أي مما يلي يعبر عن غاز؟



المادة: علوم
الصف:
الأول الابتدائي



ورقة عمل

اسم الطالب:



الموضوع: وحدات البناء
وعلوم تقنية



صل كل بيت بالوحدة البنائه المناسبة:



ضع علامة (✓) أسفل البنية التي تدوم أطول:

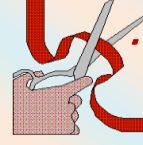


المادة: علوم
الصف:
الأول الابتدائي



ورقة عمل


اسم الطالب:



الموضوع: المادة تتغير



صل كل صورة بالتحويل المناسب لها:



ضع علامة (✓) أسفل الإجابة الصحيحة:

معي ورقة وأريد أن أغيرها مع احتفاظ الورقة بخواصها:

أتركها ولا أفعل شيء

أمزق الورقة

أحرق الورقة

المادة: علوم
الصف:
الأول الابتدائي




ورقة عمل

اسم الطالب:

الموضوع: المخاليط



ضع علامة (✓) أسفل المخاليط
التالية التي يسهل فصلها:



← صل كل صورة بالتوضيح الذي يناسبها:

الزيت طفا فوق الماء وبقا منفصلاً
عن باقي المحلول.

الكرات الزجاجية طفت فوق الماء
وانغمرت الكرات الحمراء.

المحلول طفا فوق الماء وبقا الزيت
منفصلاً عن باقي المحلول.

الكرات الحمراء طفت فوق سطح
الماء وانغمرت الكرات الزجاجية.



كرات زجاجية



زيت

محلول

المادة: علوم
الصف:
الأول الابتدائي



ورقة عمل


اسم الطالب:



الموضوع: تابع المخاليط



ضع علامة (✓) أسفل المحلول
الذي يصعب فصل مكوناته:

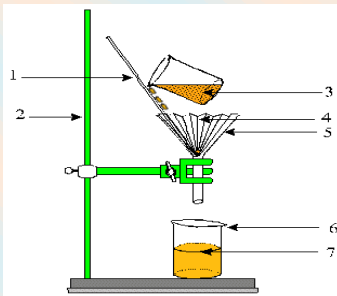


ضع علامة (✓) أمام العبارة الصحيحة وعلامة (×) أمام العبارة الخاطئة:

يمكن فصل مخلوط من الماء والزيت بسهولة.

الذوبان هو امتزاج المادة كلياً بالسائل.

سلطة الفواكه مثلاً على المخلوط.



المادة = علوم
الصف =
الأول الابتدائي



ورقة عمل





اسم الطالب:



الموضوع: مهن مترابطة
بالعلوم



ضع علامة (✓) أسفل من
يُعد لنا الخبز الذي نأكله:



صل من العمود الأول ما يناسب من العمود الثاني:

المجمد

..... تغير العجين
وتجعله خبزاً.

الماء

يخلط الخبز الدقيق بـ.....
وأشياء أخرى لعمل العجين.

الحرارة

المادة: علوم
الصف:
الأول الابتدائي



ورقة عمل

اسم الطالب:



الموضوع: الموقع والحركة



لاحظ الصورة ثم صل ما يأتي:



الولد القريب من اللعبة.

البنيت فوق الحصان.

الولد البعيد عن اللعبة.

ما المقصود بـ؟



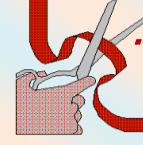
هو مكان وجود الشيء
بالنسبة إلى شيءٍ آخر.
(.....)

المادة: علوم
الصف:
الأول الابتدائي



ورقة عمل

اسم الطالب:



الموضوع: تابع الموقع
والحركة



صح أم خطأ!



تحرك الأشياء في
خطوط مستقيمة فقط
وبسرعات محددة.
(.....)

ضع علامة (✓) أسفل الإجابة الصحيحة:

الصاروخ أسرع من



المادة: علوم

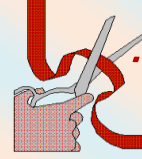
الصف:

الأول الابتدائي



ورقة عمل

اسم الطالب:



الموضوع: الدفع والسحب



ضع علامة (✓) أسفل الصورة التي تعبر عن (قوة السحب):



ما المقصود بـ؟



يطلق علي الدفع
أو السحب.

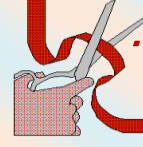
(.....)

المادة = علوم
الصف =
الأول الابتدائي




ورقة عمل

اسم الطالب:



الموضوع: تابع الدفع
والسحب



صل من العمود الأول بما يناسب من العمود الثاني:

القوة التي تسحب الأشياء في اتجاه الأرض.

قوة الدفع:

القوة التي تحرك الأشياء بعيداً عني.


قوة الاحتكاك:

قوة تبطئ حركة الأشياء أو توقفها.

قوة الجاذبية:

اختر الإجابة الصحيحة مما يلي:


القوة التي تجعل البيضة تسقط على الأرض تسمى



السحب

الاحتكاك

الجاذبية



المادة: علوم
الصف:
الأول الابتدائي



ورقة عمل

اسم الطالب:



الموضوع: الطاقة والحرارة



ضع علامة (✓) أسفل الإجابة الصحيحة:



..... يزود السيارات بالطاقة لتتحرك.

مياة غازية

البنزين

الماء

المراوح الهوائية تحول طاقة الرياح إلى طاقة

كهربائية

حرارية

ضوئية



صح أم خطأ!

الضوء والكهرباء شكل
من أشكال الطاقة.

(.....)



المادة: علوم
الصف:
الأول الابتدائي



ورقة عمل


اسم الطالب:



الموضوع: الطاقة والحرارة



ضع علامة (✓) أمام العبارة الصحيحة وعلامة (x) أمام العبارة الخاطئة:



احتكاك اليدين إحداهما بالأخرى يعطي حرارة.


لا يستخدم الناس الحرارة في طهي الطعام.

نحصل على الحرارة من احتراق أشياء مثل الخشب.



ضع علامة (✓) أسفل الإجابة الصحيحة:

معظم الطاقة الحرارية على الأرض تأتي من



القمر

الشمس

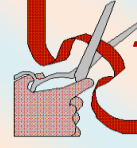
الوقود

المادة: علوم
الصف:
الأول الابتدائي



ورقة عمل

اسم الطالب:




الموضوع: الضوء والصوت



صل الإجابة الصحيحة!

معظم الضوء على الأرض
يأتي من



المصابيح

الشمس

النجوم

ضع علامة (✓) أمام العبارة الصحيحة وعلامة (x) أمام العبارة الخاطئة:



الضوء شكل من أشكال الطاقة.

عندما يُجذب الضوء يتكون ظل.

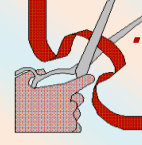
عندما يسقط الضوء على جسم يرتد عنه.

المادة: علوم
الصف:
الأول الابتدائي



ورقة عمل

اسم الطالب:



الموضوع: تابع الضوء
والصوت



ضع خطأً تحت الإجابة الصحيحة:



ينشأ الصوت عندما الأجسام.

تتوقف

تهتز

تتغير

اختر الإجابة الصحيحة:

تصدر هذه الشوكة الرنانة صوتاً
عندما يتم

ثنيها

سحبها

طرقها

