

اسم الطالب :

الصف : الأول الابتدائي

المادة : رياضيات الزمن :

اليوم و التاريخ :

اختر الإجابة الصحيحة وظللها في الورقة الخارجية المرفقة في جميع الأسئلة التالية:

-١

العَدَدُ الَّذِي آحَادُهُ ٥، وَعَشْرَاتُهُ ٦ هُوَ:

أ	٥٦	ب	٦٥	ج	٥٠
---	----	---	----	---	----

-٢

مَا نَاتِجُ الْجَمْعِ؟
 $= ٤ + ٧$

أ	١٠	ب	١٢	ج	١١
---	----	---	----	---	----

-٣

مَا نَاتِجُ الطَّرْحِ؟
 $= ٠ - ٩$

أ	٩	ب	٠	ج	٨
---	---	---	---	---	---

-٤

اَكْتُبِ العَدَدَ الَّذِي يَسْبِقُ مُبَاشَرَةً ٨٧،

أ	٧٦	ب	٨٨	ج	٨٦
---	----	---	----	---	----

-٥

مَعَ سَلْمَى أَكْثَرُ مِنْ ٢٨ رِيَالًا وَأَقَلُّ مِنْ ٣٠ رِيَالًا. فَكَمْ رِيَالًا مَعَ سَلْمَى؟

أ	٣١	ب	٢٩	ج	٢٧
---	----	---	----	---	----

أَحْوَطُ الشَّيْءَ الَّذِي سَعَتُهُ أَقَلُّ:

-٦



أَطْرَحُ وَأَكْتُبُ جُمْلَةَ الطَّرْحِ:

-٧



$6 = 3 - 9$	ج
-------------	---

$7 = 3 - 10$	ب
--------------	---

$5 = 4 - 9$	أ
-------------	---

أَطْرَحُ:

-٨

$$= 4 - 10$$

٦	ج
---	---

٨	ب
---	---

٧	أ
---	---

أَطْرَحُ:

-٩

$$= 3 - 6$$

٣	ج
---	---

١	ب
---	---

٤	أ
---	---

أَطْرَحُ:

-١٠

$$= 7 - 11$$

٥	ج
---	---

٦	ب
---	---

٤	أ
---	---

أَطْرَحُ:

-١١

$$= 7 - 10$$

٤	ج
---	---

٣	ب
---	---

١٣	أ
----	---

= ٢٣ آحادًا

-١٢

٣ آحاد و ٣ عشرات	ج
------------------	---

٢ آحاد و ٣ عشرات	ب
------------------	---

٣ آحاد و ٢ عشرات	أ
------------------	---

١٣- أكتب العدد الذي يسبق مباشرة: ، ٦٥

أ	٦٤	ب	٦٦	ج	٦٧
---	----	---	----	---	----

١٤- أكتب العدد الذي يلي مباشرة: ٦٢ ،

أ	٦١	ب	٦٠	ج	٦٣
---	----	---	----	---	----

١٥- $٤ - ٤ =$

أ	٨	ب	١	ج	٠
---	---	---	---	---	---

١٦- أكتب العدد الواقع بين العددين: ٧١ ، ، ٧٣

أ	٧٠	ب	٧٢	ج	٧٤
---	----	---	----	---	----

١٧- في الحافلة ١٠ أشخاص نزل منهم ٤ .
كم شخصاً بقي في الحافلة؟

أ	٥	ب	٦	ج	٧
---	---	---	---	---	---


١٨- إشارة الجمع:

أ	+	ب	-	ج	=
---	---	---	---	---	---

١٩- إشارة الطرح:

أ	+	ب	-	ج	=
---	---	---	---	---	---

أَسْتَعْمِلُ خَطَّ الأَعْدَادِ لِأَجْدِ نَاتِجِ الجَمْعِ:



$$= 4 + 5$$

-٢٠

٦	ج	١٠	ب	٩	أ
---	---	----	---	---	---

$$= 3 + 6$$

-٢١

٩	ج	٨	ب	٣	أ
---	---	---	---	---	---

$$\begin{array}{r} 4 \\ + 8 \\ \hline \end{array}$$

-٢٢

١١	ج	٤	ب	١٢	أ
----	---	---	---	----	---




$$= 1 + 10$$

-٢٣

٨	ج	١١	ب	٩	أ
---	---	----	---	---	---

أيُّهُمَا أَثْقَلُ؟

-٢٤

	ج		ب		أ
---	---	---	---	---	---

أَيُّهُمَا أَخَفُّ؟

-٢٥



ج




ب



أ

الجُمْلَةُ الَّتِي تُمَثِّلُ الشَّكْلَ هِيَ:

-٢٦



٣+٤ ج

٤-٧ ب

٣-٧ أ

٥ - ٠

الشَّكْلُ الَّذِي يُمَثِّلُ الجُمْلَةَ التَّالِيَةَ هُوَ:

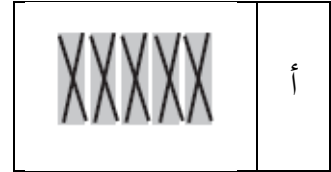
-٢٧



ج



ب



أ

_____ = ٦ + ٣

٦ ج

١ ب

٥ أ

-٢٨

_____ = ٦ + ٣

٢٩

٤ ج

٩ ب

٣ أ

الشَّيْءُ الأَثْقَلُ مِنْ كِتَابِ الرِّيَاضِيَّاتِ هُوَ:

-٣٠



ج



ب



أ